

三年级数学第一学期第一次月考调研卷

测试内容:第一、二单元

时间:90 分钟 总分:100 分

题号	一	二	三	四	五	六	七	八	总分
得分									

一、看一看,填一填。(8 分)



差____秒到____时 差____秒到____时 ____时多____秒 ____时多____秒

二、快乐点击 A、B、C。(16 分)

1. 我们常用的计时单位有()。

A. 时、分、秒

B. 克、千克

C. 米、厘米

2. $555 \times 0 \times 99$ 得()。

A. 4950

B. 0

C. 99

3. 分针走 5 小格,秒针走了()。

A. 5 圈

B. 50 圈

C. 5 大格

4. 最大的两位数与最小的两位数的和是()。

A. 两位数

B. 三位数

C. 两位数或三位数

5. 3 时整,时针和分针成()。

A. 锐角

B. 一条直线

C. 直角

6. 鸡蛋有 140 个,鸭蛋有 220 个,鸡蛋比鸭蛋少()个。

A. 360

B. 80

C. 180

7. 火车下午 3:15 出发,路上用了 4 小时 35 分钟,()到达。

A. 7 小时

B. 7 小时 20 分

C. 7 时 50 分



扫描全能王 创建


8. 小明从8月3日晚上9:00开始睡觉,到8月4日早上6:00起床,小明共睡了()
小时。

A. 15

B. 9

C. 3

三、小蜜蜂采蜜。(连一连)(8分)


 $53+25$


 $69-35$


 $46+45$


 $29+49$


42


78


91


34


 $88-46$


 $92-58$


 $81-39$


 $70+21$

四、在○里填上“>”“<”或“=”。(9分)

$320 \text{ 秒} \bigcirc 5 \text{ 分}$

$6 \text{ 分} \bigcirc 350 \text{ 秒}$

$180 \text{ 分} \bigcirc 3 \text{ 时}$

$500 \text{ 分} \bigcirc 2 \text{ 时}$

$570 \text{ 秒} \bigcirc 10 \text{ 时}$

$8 \text{ 时} \bigcirc 470 \text{ 分}$

$18 \bigcirc 35 - 16$

$80 - 27 \bigcirc 48 - 27$

$32 + 44 \bigcirc 96$

五、森林医生。(正确的打“√”,错误的打“×”并改正)(6分)

1.
$$\begin{array}{r} 120 \\ + 390 \\ \hline 410 \end{array}$$
 ()

2.
$$\begin{array}{r} 560 \\ - 270 \\ \hline 390 \end{array}$$
 ()

六、算一算。(12 分)



上课: 8:10

下课: _____

一节课的时间是 40 分钟。



开始: 10:20

结束: 10:50


做游戏用的时间是 _____。



开始: 12:15

结束: _____

吃午餐用的时间是 17 分钟。



开始: 晚上 6:10

结束: _____

看电视用的时间是 1 小时 40 分钟。

七、列竖式计算。(12 分)

$$230 + 350 =$$

$$380 + 420 =$$

$$560 + 180 =$$

$$960 - 630 =$$

$$820 - 740 =$$

$$610 - 430 =$$

八、走进生活。(29 分)

1. 小丽去上学。(7 分)



到校



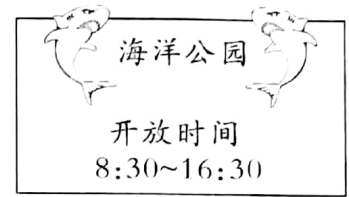
放学

小丽上午在校几小时?



2. 三年级同学去海洋公园参观,9:15 出发,10:50 到达海洋公园,下午3:25回到学校。(下午坐车用的时间与上午相同)(10 分)

(1)来回在路上一共花了多长时间?



(2)在海洋公园参观了多长时间?

3. 某超市迎国庆搞促销。(12 分)



原价65元
现价49元



原价130元
现价110元



原价260元
现价240元

(1)一瓶洗发水便宜了多少元?

(2)一包奶粉降价多少元?

(3)李红按现价买了一件夹克,付了 300 元,应找回多少元?



扫描全能王 创建